

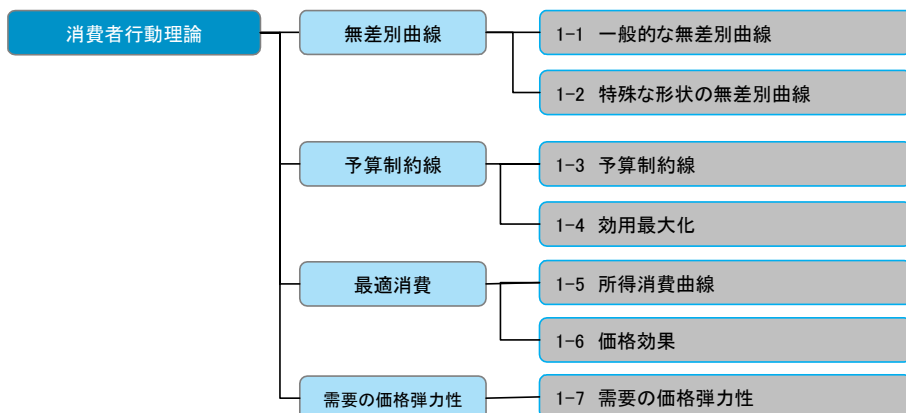
第 1 分野

消費者行動理論

消費者行動理論



1 各テーマの関連



本章では、消費行動理論について説明します。また消費者については、1人の消費者（個別消費者）を前提にします。もちろん実際には、ある財やサービスの消費について多くの消費者が存在しますが、ここではその中で1人の消費者の行動に着目することになります。

さらに、消費者は、自己の効用を最大にするように財を消費すると仮定します。この効用とは、一般に満足感と呼ばれるものです。私たち消費者が財やサービスを購入するのは、究極的には効用すなわち満足感を得るためであると考えます。そして、この効用（満足感）を最大化することが、最適な消費になると考えます。

そこで、本章ではまずこの効用について、無差別曲線を用いて説明します。無差別曲線とは、2つの財が存在するという2財モデルの下で、ある消費者の効用（満足感）を表すものです。したがって、実際の消費を行う際には、この2財の組み合わせを考えることになります。さらに、ある消費者の消費を考える上で重要になるのが予算です。なぜなら、予算を超える消費はできないからです。その上で、無差別曲線と予算の制約を考えた上で、最適な消費を説明します。

さらに、他の条件を一定にしてある消費者の予算（所得）が変化した場合に、最適な消費はどのような影響を受けるのかを説明します。特に、所得消費曲線は過去にも出題されたことがあり重要です。図を理解しましょう。最適消費の最後のテーマとして、他の条件を一定にしてある財の価格が変化した場合に、最適な消費はどのような影響を受けるのかについて説明します。こうした影響のことを価格効果と言い、代替効果と所得効果に区分されます。この、代替効果と所得効果については過去に何度も出題されたことがあり重要ですから、しっかりと理解しましょう。最後に、消費に関連して需要の価格弾力性について説明します。

2

出題傾向の分析と対策

1

出題傾向

#	テーマ	H15	H16	H17	H18	H19	H20	H21	H22	H23	H24
1-1	一般的な無差別曲線										
1-2	特殊な形状の無差別曲線									1	
1-3	予算制約線										
1-4	最適消費	1						1			
1-5	所得消費曲線	1									
1-6	価格効果									1	
1-7	需要の価格弾力性	1	1			1				1	

2

対策

消費者行動理論の場合、比較的出題範囲は偏っていると言えます。すなわち、論点としては、無差別曲線の理解と価格効果すなわち代替効果と所得効果及び需要の価格弾力性に集中しています。特に、需要の価格弾力性については、毎年のように出題される最重要論点ですから、しっかりと理解しましょう。

受験生としては、まず無差別曲線の内容をしっかりと理解し、その上で、価格効果を理解してください。そして最後に最重要論点である需要の価格弾力性について理解しましょう。

2

出題傾向の分析と対策

- 無差別曲線：特殊な形状の無差別曲線を理解しましょう。
- 予算制約線：式と図の両方を理解しましょう。
- 最適消費：図をイメージできるようにしましょう。
- 所得の変化と最適消費：所得消費曲線について図を用いて理解しましょう。
- 価格の変化と最適消費：代替効果と所得効果を理解しましょう。
- 需要の価格弾力性：意義や計算、需要曲線との関係を理解しましょう。

1

無差別曲線

一般的な無差別曲線



学 習 事 項 効用, 無差別曲線, 限界代替率

こ の テ ー マ の 要 点

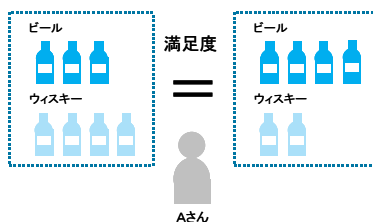
一般的な形状の無差別曲線を理解する！

消費者の最適消費について考えるにあたって、まず無差別曲線を理解する必要があります。私たち消費者は、効用を得るためにお金を払って財やサービスを消費します。ここで最適消費というのは、効用（満足感）を最大にする消費を意味します。

その最適消費を考える上で、無差別曲線の理解は不可欠となります。無差別曲線は、2財モデルを前提にしている点に注意してください。2財モデルというのは、社会には2つの財しか存在しないという仮定を意味します。そのため、2財の消費の組み合わせが大切になるのです。

また、無差別曲線を理解したら、限界代替率についても説明します。

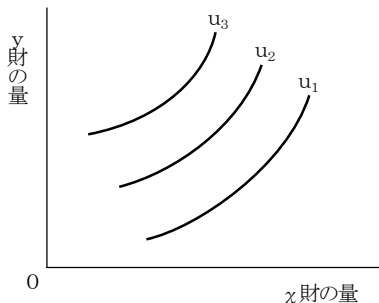
2財モデル



過去問 トライアル	平成13年度 第18問 (改題) 無差別曲線の性質
類 題 の 状 況	—

ある消費者の x 財、 y 財に関する無差別曲線群が図の u_1 、 u_2 、 u_3 のような形状をしているとする。これに関する記述として最も適切なものはどれか。

ただし、無差別曲線は左上に位置するほど効用水準が高いものとする。



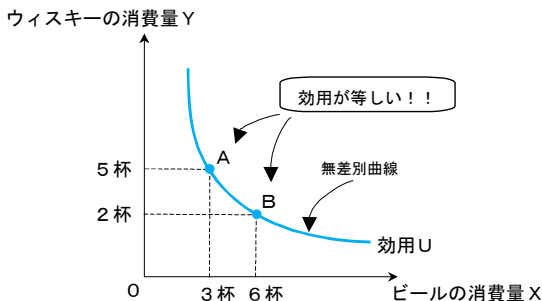
- ア 同じ無差別曲線上でも、効用水準は異なる。
- イ 消費者にとって、 x 財も y 財も多い方が望ましい。
- ウ x 財は消費者に負の効用をもたらす。
- エ y 財は消費者の効用水準に影響しない。

1 無差別曲線の意義

無差別曲線とは、ある消費者にとって等しい効用（U:Utility＝満足感）をもたらす2財の組み合わせを示す曲線です。効用とは、満足感を表しますが、特に測定尺度はありません。つまり、効用が100とか200といっても、この数値には特別な意味はなく、議論の便宜上、効用を数値で表しているのです。

一般に、無差別曲線は、以下のような形状となります。

図表 1-1-1 無差別曲線の形状例



例えば、ビール3杯とウィスキー5杯の組み合わせ（点A）とビール6杯とウィスキー2杯の組み合わせ（点B）では、効用Uが等しいのです。

2 限界代替率MRS (Marginal Rate of Substitution)

1 限界代替率MRSの定義

限界（Marginal）とは、ある状態から1単位増やすことを意味します。この限界～という用語が出てきたら、「1つ増やす」ということをイメージしてください。また図の上では、「接線の傾き」で示されます。

限界代替率MRSとは、ある状態からX財の消費量を1つ増やしたときに、効用を一定に維持するために、どれくらいY財の消費量を減らさなければならないかを表す概念です。

Example

X財を1つ増やして、Y財を2つ減らせば、効用は一定になります。



消費者

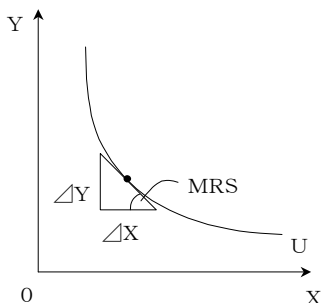
（ケース1）ビール3杯 ウィスキー4杯 効用=100

（ケース2）ビール4杯 ウィスキー2杯 効用=100

$$\text{限界代替率MRS} = -\frac{\text{Y財の増加分}}{\text{X財の増加分}} = -\frac{\Delta Y}{\Delta X} = -\frac{-2}{1} = 2$$

つまり、限界代替率 MRS は、2財の交換比率を表します。それは、無差別曲線上の1点における接線の傾きを表します。

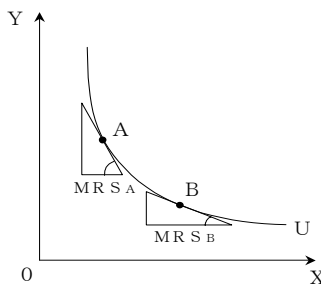
図表 1-1-2 限界代替率 MRS



2 限界代替率逓減の法則

限界代替率 MRS は、X財の消費量が増加すると徐々に低下していきます。こうした性質を、限界代替率 MRS 逓減の法則といいます。点Aにおける限界代替率 MRS_A よりも点Bにおける限界代替率 MRS_B の方が小さい値となるのです。

図表 1-1-3 限界代替率 MRS 逓減の法則



Keyword

▶ Δ (デルタ)

デルタとは、変化分を意味します。例えば、 ΔX という場合、Xの変化分を意味します。

過去問トライアル解答

ウ

2

無差別曲線

特殊な形状の無差別曲線



学 習 事 項 代替財, 補完財

こ の テ ー マ の 要 点

一般的な形状の無差別曲線を理解する！

消費者の最適消費について考えるにあたって、まず無差別曲線を理解する必要があります。私たち消費者は、効用を得るためにお金を払って財やサービスを消費します。ここで最適消費というのは、効用（満足感）を最大にする消費を意味します。

その最適な消費を考える上で、無差別曲線の理解は不可欠となります。無差別曲線は、2財モデルを前提にしている点に注意してください。2財モデルというのは、社会には2つの財しか存在しないという仮定を意味します。そのため、2財の消費の組み合わせが大切になるのです。

また、無差別曲線を理解したら、限界代替率についても説明します。



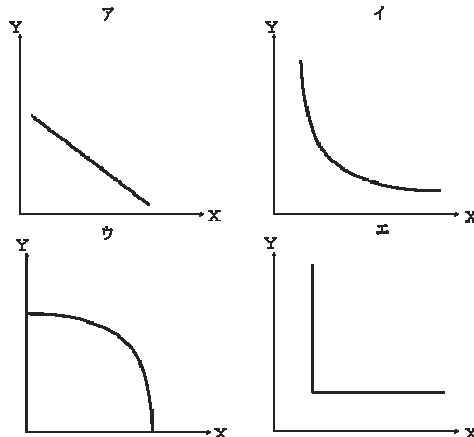
過去問
トライアル

平成23年度 第16問

特殊な形状の無差別曲線

類 題 の 状 況 H24-Q16

以下のア～エの4つの図は、ある個人の財Xと財Yに対する無差別曲線を描き出したものである。これらのうち、財Xと財Yとが完全補完財であることを示す図として最も適切なものはどれか。



1 完全代替財（右下がりの直線）

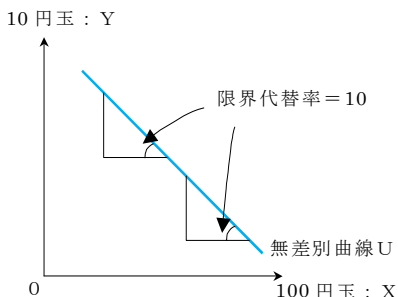
右下がりの直線となる無差別曲線とは、消費者にとって2財がまったく同じ性質であるとみなされる財の組み合わせで考えるケースとなります。例えば、お金（100 円玉と 10 円玉）や角砂糖と棒砂糖などが該当します。

ここでは、100 円玉と 10 円玉で説明します。例えば、ある状態から 100 円玉が 1 枚増えたとします。このとき、その代わりといったら変かもしれませんが 10 円玉が 10 枚減ったら、効用は変わりません。

こうしたケースでは、限界代替率 $MRS=10$ となります。しかも、お金の場合、限界代替率 MRS は 10 で一定になります。この限界代替率 MRS は、無差別曲線の傾きでしたから、結局、無差別曲線の傾きが 10 で一定になります。

以上より、無差別曲線は直線になります。

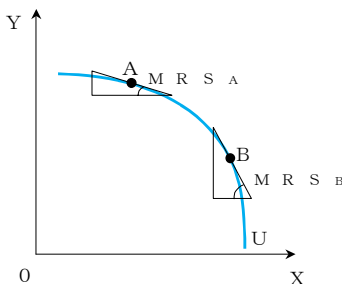
図表 1-2-1 完全代替財の無差別曲線



2 限界代替率逓増（原点に対して凹型）

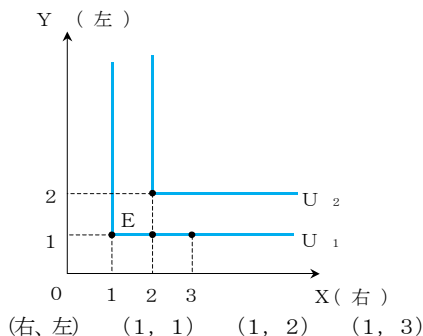
無差別曲線が、原点に対して凹となる形状の場合、限界代替率は逓増します。このケースは、代替財や補完財などの専門用語を用いて説明されるものではないため、具体例は考えなくて結構です。

図表 1-2-2 原点に対して凹型の無差別曲線



2財が完全補完財の関係になると、無差別曲線がL字型になります。L字型となる無差別曲線としては、手袋（右と左）のケースがあります。

図表 1-2-3 手袋の無差別曲線

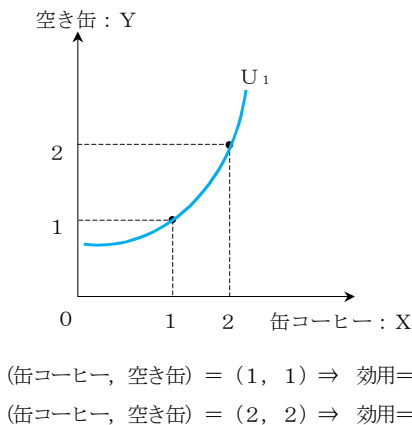


例えば、上記の例のように、手袋の右が1つで左だけが1から2さらには3へと増えても嬉しくありません。すなわち、すべて効用は等しいので同じ無差別曲線上にあります。

【参考】右上がりの無差別曲線

どちらかの財が空き缶のようなゴミの場合、無差別曲線は右上がりになります。

図表 1-2-4 空き缶と缶コーヒーの無差別曲線



缶コーヒーが1から2に増えると効用が高まりますが、空き缶が1から2に増えると効用が下がるので、結局効用は不変となります。

Keyword

▶ 代替財と補完財

代替財は、そもそも交換可能な財を言います。例えば、コーヒーと紅茶などです。コーヒーが無ければ紅茶を飲めばよいのです。

一方、補完財とは、交換できず1組になって消費することに意味がある財を言います。例えば、コーヒーとクリームなどです。コーヒーが無ければクリームを飲むなどといったことはできません。つまり交換できないのです。コーヒーの中にクリームを入れて補うのです。

過去問トライアル解答

エ

3

予算制約線

予算制約線

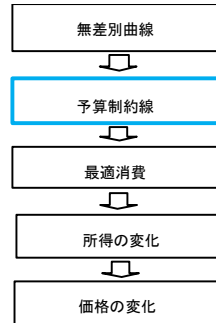


学 習 事 項 代替財, 補完財

こ の テ ー マ の 要 点

予算の制約について理解する！

消費者の最適消費について考えるにあたって、予算制約線を理解する必要があります。ある消費者が財やサービスの消費を行う際に、予算が制約になるからです。予算を超えた消費は不可能なのです。そこで、この予算制約線について、式と図の両方で説明することになります。



	過去問 トライアル	オリジナル問題 予算制約線
	類 題 の 状 況	—

2財モデルにおけるある消費者の予算制約線の傾きについて述べた以下の記述のうち、最も適切なものを選び。

- ア 予算制約線の傾きは、ある財の価格を表す。
- イ 予算制約線の傾きは、ある財の価格の逆数を表す。
- ウ 予算制約線の傾きは、2財の価格比を表す。
- エ 予算制約線の傾きは、予算を表す。

1

予算制約線とは

予算制約線とは、ある消費者にとって予算（＝所得M:Money）の制約を表す線です。また、合理的な個人は予算（所得）をすべて使い切るので、予算額と消費額は一致します。したがって、予算の制約を式で表すと以下ようになります。

【ある消費者の予算制約線】

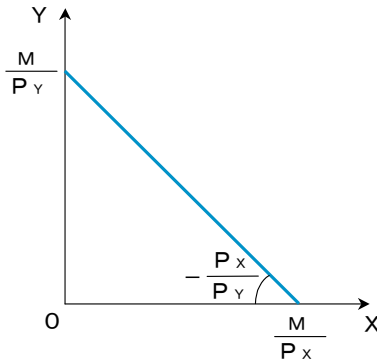
所得M（予算）＝ビールの価格 P_X ・ ビールの消費量 X

+ ウィスキーの価格 P_Y ・ ウィスキーの消費量 Y

これが、ある消費者の予算制約線です。また図では縦軸に Y をとるので、 $Y = \sim$ に変形すると以下ようになります。

$$M = P_X \cdot X + P_Y \cdot Y \rightarrow Y = -\frac{P_X}{P_Y} X + \frac{M}{P_Y} \quad \left(\text{傾き: } 2 \text{ 財の価格比 } \frac{P_X}{P_Y} \right)$$

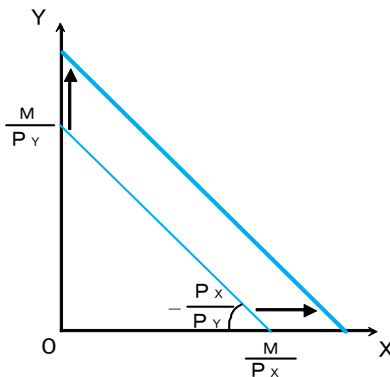
図表 1-3-1 予算制約線



上図のように、予算制約線の傾きは、2財の価格比を表します。

ある消費者にとって、他の条件を一定にして予算（所得、所持金）が増えると、予算制約線は右上方に平行シフトします。予算が変化しても、価格は変わりません。もちろん価格比も変わりません。そのため、予算制約線の傾きは変わらないのです。

図表 1-3-2 予算制約線のシフト



上図のように、例えば予算 M が増加した場合、予算制約線の両軸の切片が大きくなるので、平行に上方シフトします。

過去問トライアル解答

ウ

4

予算制約線

最適消費



学 習 事 項 代替財, 補完財

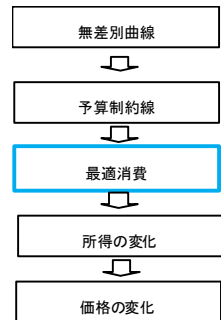
こ の テ ー マ の 要 点

ある消費者の最適消費の決定条件を理解する！

今までの項目で無差別曲線と予算制約線を説明しました。そこで、この2つの線を用いて最適消費について説明します。

最適消費というのは、一定の予算制約の下で、効用を最大化する消費を意味します。私たち消費者は、自己の効用を最大化するように消費を行うという前提で議論が進められます。

そこで、ここではどのような基準で2財を消費すれば、効用が最大になるのかを説明します。この効用が最大化された状態を「最適消費」と言います。



	過去問 トライアル	オリジナル問題 最適消費
	類 題 の 状 況	H21-Q20

2財モデル（X財、Y財）におけるある消費者の最適消費の決定条件について述べた以下の記述のうち、最も適切なものを選び。

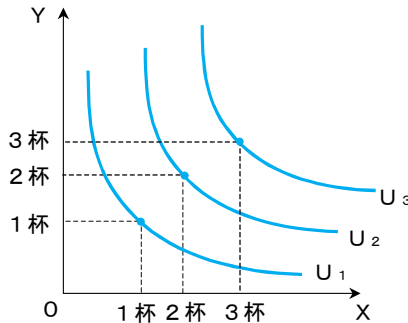
- ア 2財の価格が一致することである。
- イ X財の価格と限界代替率が一致することである。
- ウ Y財の価格と限界代替率が一致することである。
- エ 2財の価格比率と限界代替率が一致することである。

1 無差別曲線の特徴について

無差別曲線は、右上にあるほど高い効用を表します。なぜなら、無差別曲線が右上に移動するということは、それだけ2財の消費量が徐々に増加するからです。例えば、下図においては、以下の関係が成立します。

$$\text{効用 } U_1 < \text{効用 } U_2 < \text{効用 } U_3$$

図表 1-4-1 無差別曲線の移動

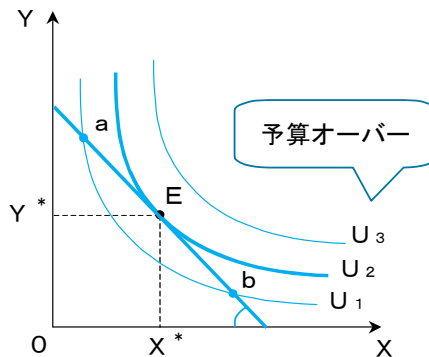


2 最適消費について

最適消費とは、一定の予算の下で最も効用を高める2財の消費量の組み合わせを意味します。

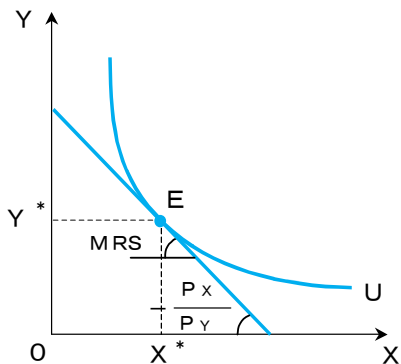
下図の点aでも点bでも予算制約線上にあるので消費可能ですが、これではU1の効用しか得られません。ここで、点Eであれば効用がU2となり、効用はU1よりも高くなります。また無差別曲線がU3となれば、予算を超えてしまい消費できません。

図表 1-4-2 無差別曲線と予算制約線の関連



したがって、ある消費者にとっての効用最大化は無差別曲線と予算制約線が接する点で実現します。2つの線の接点において、2財の消費を決定するのです。

図表 1-4-3 最適消費



効用最大化条件：限界代替率 $MRS = 2$ 財の価格比

過去問トライアル解答

エ